




### Na dobry początek

1 Połącz przywódców z państwami, na których czele stali.

- |                      |          |
|----------------------|----------|
| Saddam Husajn •      | • Izrael |
| Dawid Ben Gurion •   | • Egipt  |
| ajatollah Chomejni • | • Irak   |
|                      | • Iran   |

2 Zapoznaj się z amerykańską karykaturą z 1977 r. i wykonaj polecenia.



a) Określ, jakie funkcje i w których państwach sprawowały przedstawione osoby.

Menachem Begin – \_\_\_\_\_, Anwar as-Sadat – \_\_\_\_\_

b) Uzupełnij poniższy tekst. Przyporządkuj do każdego zdania właściwe uzupełnienie spośród oznaczonych literami A-C.

Karykatura dotyczy 2.1. \_\_\_\_\_. Pośrednio w tym wydarzeniu uczestniczyli dyplomaci

2.2. \_\_\_\_\_. Rezultatem tego wydarzenia było 2.3. \_\_\_\_\_.

- 2.1. A. ogłoszenia decyzji ONZ o podziale Palestyny na część arabską i żydowską  
 B. wybuchu intifady zorganizowanej przez Organizację Wyzwolenia Palestyny  
 C. negocjacji egipsko-izraelskich zakończonych podpisaniem pokoju w Camp David
- 2.2. A. Związku Sowieckiego B. Stanów Zjednoczonych C. Wielkiej Brytanii
- 2.3. A. zawarcie trwałego pokoju pomiędzy skłóconymi stronami na Bliskim Wschodzie.  
 B. odzyskanie przez państwo egipskie terytorium półwyspu Synaj.  
 C. zerwanie rozmów pokojowych i wybuch wojny Jom Kippur.

c) Wyjaśnij, jak autor karykatury oceniał szanse na rozwiązanie konfliktu w Palestynie.

---



---



---



---

d) Opisz, na czym polegał spór arabsko-izraelski.

---



---




---



---

3 Uporządkuj chronologicznie wydarzenia z historii Bliskiego Wschodu. Wpisz właściwą literę w odpowiednie miejsce na osi czasu.



A. wojna sześciodniowa  
B. kryzys sueski

C. wojna o niepodległość Izraela  
D. wojna Jom Kippur

4 Dokończ zdania. Wybierz właściwą odpowiedź spośród podanych.

W pierwszych latach po powstaniu Izraela jego ludność w większości wywodziła się spośród

A. rdzennych mieszkańców Palestyny.  
B. członków diaspory przybyłych do Palestyny.  
C. uciekinierów ze Stanów Zjednoczonych.  
D. ludności arabskiej wypędzonej z Palestyny.

Kryzys sueski rozpoczął się wskutek

A. wkroczenia armii irackiej do kraju bogatego w złoża ropy naftowej.  
B. zamachu na życie szefa rządu jednego z państw bliskowschodnich.  
C. ataku terrorystycznego na sportowców podczas letniej olimpiady.  
D. nacjonalizacji kanału łączącego morza: Śródziemne i Czerwone.

Rewolucja w Iranie wybuchła przeciw rządowi szacha Rezy Pahlawiego, który dążył do

A. umocnienia znaczenia islamu w państwie.  
B. zachowania swojej autorytarnej władzy.  
C. zmniejszenia wpływów kultury zachodniej.

D. zawarcia sojuszu ze Związkiem Sowieckim.


**Na dobry początek**

- 1 Podkreśl nazwisko dwóch przywódców, którzy stali na czele światowych mocarstw w trakcie kryzysu kubańskiego.

Leonid Breżniew, Nikita Chruszczow, Dwight Eisenhower,  
 John F. Kennedy, Richard Nixon, Józef Stalin

- 2 Przyporządkuj działania z okresu zimnej wojny do państwa, które je przeprowadziło. Wpisz właściwe litery do tabeli.


- A. umieszczenie na orbicie „Sputnika”  
 B. pierwszy lot człowieka w kosmos  
 C. blokada morską Kuby

- D. wsparcie Wietnamu Południowego  
 E. zdławienie praskiej wiosny  
 F. lądowanie ludzi na Księżycu

Stany Zjednoczone	Związek Sowiecki

- 3 Zapoznaj się z amerykańską karykaturą z 1962 r., a następnie wykonaj polecenia.

Słowa dentysty: „To boli mnie bardziej niż ciebie!”



- a) Podaj imię i nazwisko postaci przedstawionych na karykaturze.

A – \_\_\_\_\_ – przywódca Kuby

B – \_\_\_\_\_ – przywódca ZSRS

- b) Dokończ zdanie. Wybierz odpowiedź A albo B i jej uzasadnienie 1., 2. lub 3.

Karykatura przedstawia

A.	przyczynę	kryzysu kubańskiego, o czym świadczy nawiązanie do	1.	rozlokowania baz sowieckich na Kubie.
B.	skutek		2.	podjęcia współpracy między Kubą a ZSRS.
			3.	usuwania sowieckich rakiet z Kuby.



### Na dobry początek

- 1 Spośród poniższych wydarzeń oznaczonych literami A–D wybierz wydarzenie chronologicznie pierwsze i wydarzenie chronologicznie ostatnie. Zaznacz w tabeli litery, którymi oznaczono wybrane wydarzenia.

Wydarzenie chronologicznie pierwsze	A	B	C	D
Wydarzenie chronologicznie ostatnie	A	B	C	D

- A. powstanie Unii Europejskiej
- B. pierwsze wybory do Parlamentu Europejskiego
- C. założenie Europejskiej Wspólnoty Węgla i Stali
- D. utworzenie Europejskiej Wspólnoty Gospodarczej

- 2 Uzupełnij poniższe zdania na podstawie tekstu źródłowego. Przyporządkuj do każdego z nich właściwe uzupełnienie spośród oznaczonych literami A–C.

*Europa nie powstanie od razu ani w całości: będzie powstawała przez konkretne realizacje, tworząc najpierw rzeczywistą solidarność. Zgromadzenie narodów europejskich wymaga, by usunięta została odwieczna wrogość Francji i Niemiec: podjęte działanie musi w pierwszym rzędzie dotyczyć Francji i Niemiec. [...] Umieszczenie produkcji węgla i stali pod wspólnym zarządzaniem zapewni natychmiastowe powstanie wspólnych fundamentów rozwoju gospodarczego, pierwszego etapu Federacji Europejskiej, i zmieni los regionów, długo skazanych na wytwarzanie wojennego oręża, którego były najdłużej ofiarami. Solidarność produkcji, która się w ten sposób nawiąże, ukaże, że wszelka wojna między Francją a Niemcami jest nie tylko nie do pomyślenia, ale i fizycznie niemożliwa.*

Przedstawiony tekst pochodzi z 2.1. \_\_\_\_\_. Zgodnie z jego treścią koniecznym warunkiem rzeczywistej integracji państw europejskich było 2.2. \_\_\_\_\_. Najważniejszy cel podjętych działań w kierunku zjednoczenia państw polegał na 2.3. \_\_\_\_\_.

- 2.1. A. deklaracji Schumana      B. traktatów rzymskich      C. traktatu z Maastricht
- 2.2. A. zwiększenie produkcji stali i wydobywania węgla  
 B. powstanie nowej organizacji międzynarodowej  
 C. pojednanie francusko-niemieckie
- 2.3. A. dostarczeniu pomocy dla najuboższych państw zachodnioeuropejskich  
 B. zagwarantowaniu trwałego pokoju i stabilności w Europie  
 C. zmodernizowaniu produkcji przemysłowej na Starym Kontynencie

## 3 Zapoznaj się z mapą i wykonaj polecenia.



— granice państw w 2013 r.	Obszary objęte rozszerzeniem UE
■ państwa założycielskie EWG (1957 r.)	■ w 1995 r.
■ Obszary objęte rozszerzeniem EWG	■ w 2004 r.
■ w 1973 r.	■ w 2007 r.
■ w 1981 r.	■ w 2013 r.
■ w 1986 r.	■ rok praktycznego przystąpienia do strefy Schengen
■ w 1990 r.	LIECHT. Liechtenstein

a) Podkreśl nazwy państw członkowskich Unii Europejskiej, których obszary w okresie zimnej wojny należały do strefy RWPG.

b) Przyporządkuj opis zmian politycznych do odpowiedniego państwa. Wpisz właściwe litery w kratki na mapie.

A. Wskutek tzw. rewolucji goździków bez przelewu krwi upadła dyktatura, a państwo przekształciło się w demokratyczną republikę.

B. Zgodnie z wolą dyktatora po jego śmierci władzę w kraju objął król, który doprowadził do ustanowienia konstytucji i wdrożenia ustroju monarchii parlamentarnej.

c) Wymień państwa należące do strefy Schengen, które nie były w 2013 r. członkami UE.

★ d) Rozstrzygnij, czy w 2013 r. obywatel Polski mógł odbyć podróż samochodem z Lizbony do Aten bez zatrzymywania się do kontroli granicznej. Uzasadnij odpowiedź.